

අධ්‍යයන පොදු සහතික පත්‍ර සාමාන්‍ය පෙළ විභාගය - 2020
පුනරීක්ෂණ ප්‍රශ්න පත්‍ර මාලාව

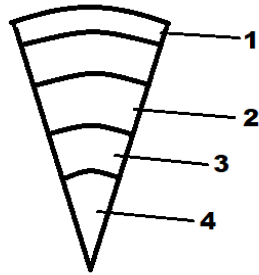
භූගෝල විද්‍යාව

© All Right Received www.learntv.lk

පැය 02

11 කොටස

02) i. යාබද රූප සටහනේ අංක 1,2,3 හා 4 න් දක්වා ඇත්තේ පෘථිවි ව්‍යුහයේ ස්ථර හතරකි. ඒවා නම් කරන්න (ඉ. 2)

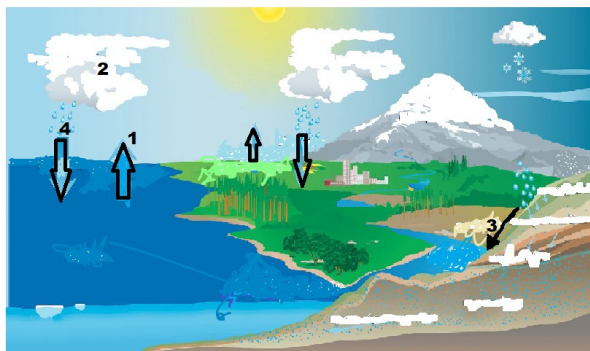


ii. ඉහත නම් කළ ස්ථර අතුරින් අංක 1 ලෙස නම් කළ ස්ථරයේ ප්‍රධාන ලක්ෂණ තුනක් සඳහන් කරන්න (ඉ. 3)

iii. (අ) ශිලා ගෝලයට අයත් ප්‍රධාන ස්ථර දෙක නම් කරන්න

(ආ) ශිලා ගෝලය මිනිසාට ප්‍රයෝජනවත් වන ආකාරය සාධක දෙකක් ඇසුරින් හෙටියෙන් විස්තර කරන්න (ඉ. 5)

03) i. යාබද දක්වා ඇති ජල චක්‍රයේ අංක 1,2,3 හා 4 යන අවස්ථා නම් කරන්න



ii. පෘථිවි ජල ගෝලයෙහි ජලය ගබඩා වී ඇති ස්ථාන තුනක් සඳහන් කරන්න (ඉ.3)

iii. මානව ක්‍රියාකාරකම් හේතුවෙන් ජලය දූෂණය වන ආකාර දෙකක් විස්තර කරන්න (ඉ.5)

“ සියළු ගිම්කම් ඇවිරිණි ”

(04)

i. යාබද ශ්‍රී ලංකා වනාන්තර ව්‍යාප්ති සිතියමේ අංක 1,2,3 හා 4 යන වෘක්ෂලතා කලාප ව්‍යාප්තීන් නම් කරන්න (෧.2)



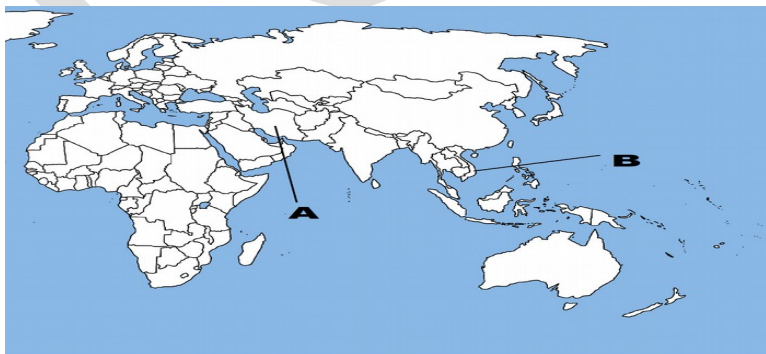
ii. ඔබ ඉහත සඳහන් කළ අංක 2 වනාන්තර සම්බන්ධයෙන් පහත කරුණු තුනට එක් පිළිතුර බැගින් සපයන්න

- ව්‍යාප්තිය
 - ප්‍රධාන දේශගුණික ලක්ෂණයක්
 - ප්‍රධාන දැවමය ශාක වර්ගයක්
- (෧.3)

iii (අ) ශ්‍රී ලංකාවේ වනාන්තර විනාශවීම කෙරෙහි බලපාන මානව කටයුතු දෙකක් සඳහන් කරන්න

(ආ) ශ්‍රී ලංකාවේ වනාන්තර පද්ධති වලින් ඇති පාරිසරික ප්‍රයෝජන දෙකක් විස්තර කරන්න (෧.5)

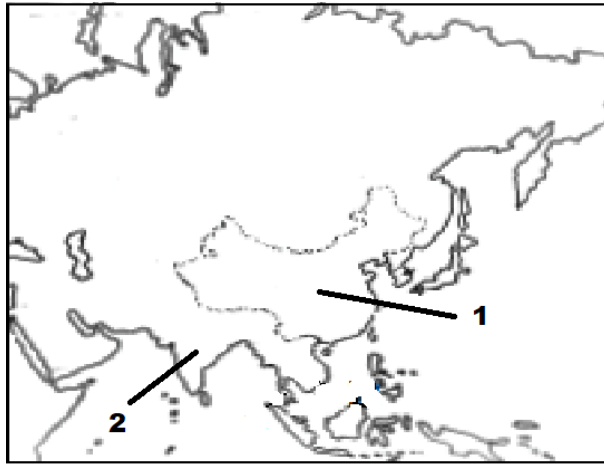
5. ලෝකයේ තේ වගාකරන ප්‍රධාන රටවල් කිහිපයකි .ඉන් A හා B වලින් දක්වා ඇති රටවල් දෙක අනුපිලිවෙලින් නම් කරන්න.



ii. (අ) සාර්ථක වී වගාවකට අවශ්‍ය ප්‍රධාන භෞතික ලක්ෂණ දෙකක් සඳහන් කරන්න

(ආ) ශ්‍රී ලංකාවේ වියළි කලාපීය වී වගාවේ කැපී පෙනෙන ලක්ෂණ දෙකක් කෙටියෙන් විස්තර කරන්න (෧.5)

(06)



i. ඉහත දී ඇති ආසියා සිතියම කොටසේ අංක 1 හා 2 යන අංක වලින් දක්වා ඇති මෝටර් රථ කාර්මාන්තයට ප්‍රසිද්ධ රටවල් දෙක අනුපිළිවෙලින් නම් කරන්න (෧.2)

ii. ඉන්දියාවේ මෝටර් රථ කාර්මාන්තය ඉතා කෙටි කලකදී වේගවත් දියුණුවක් ලැබීමට බලපෑ සාධක තුනක් සඳහන් කරන්න (෧.3)

iii. නැව් නැතිමේ කාර්මාන්තයේ විශේෂ ලක්ෂණ දෙකක් විස්තර කරන්න (෧.5)

07) i. යම් ජන සංඛ්‍යාවක ව්‍යුහ ලක්ෂණයක් හා සංයුති ලක්ෂණයක් වෙන වෙනම සඳහන් කරන්න (෧.2)

ii. ශ්‍රී ලංකාවේ 2012 වර්ෂයේ ජන හා සංඛ්‍යාලේඛන වාර්තාවට අනුව ඉහළම ජන සංඛ්‍යාවක් වෙසෙන පළාත් තුන අනුපිළිවෙලින් සඳහන් කරන්න (෧.3)

iii. අ) යම් ජන සංඛ්‍යාවක “වියපත්” වීම යනුවෙන් කුමක් අදහස් වේද? (෧.5)

ආ) ශ්‍රී ලංකා ජන සංඛ්‍යාවේ මෙම වියපත් ජන සංඛ්‍යාවේ ප්‍රතිශතය කුමයෙන් ඉහළ යමින් පවතී. එය සංවර්ධනයේ ප්‍රතිලාභයක් වශයෙන්ද විස්තර කළ හැකිය. නමුත් එම වියපත් ප්‍රතිශතය ඉහළ යාමෙන් ඇතිවිය හැකි සමාජ ආර්ථික ගැටළු දෙකක් කෙටියෙන් විස්තර කරන්න (෧.5)



මෙම ප්‍රශ්න පත්‍රය www.learntv.lk වෙබ්අඩවිය මගින් 2020 අ.පො.ස සාමාන්‍ය පෙළ සිසුදරුවන් සඳහා නොමිලේ බෙදා දීම සිදු කරන අතර වෙබ් අඩවි සංස්කාරකගේ නිසි අවසරයකින් තොරව සම්පූර්ණ ප්‍රශ්න පත්‍රයම හෝ ඉන් කොටසක් වෙනත් වෙබ්අඩවියක ඵල කිරීම, විකිණීම, මුද්‍රණය කිරීම වාණිජ පරමාර්ථයෙන් බෙදා හැරීම **මූර්ථකමය දෝෂ පනත යටතේ දඬුවම් ලැබිය හැකි වරදකි.** මේ පිළිබඳව විමසීම සඳහා h.d.hasarali@dharmavahini.tv / info@learntv.lk යන විද්‍යුත් ලිපිනය මගින් හෝ 076-6566588 දුරකථන අංකය මගින් විමසීම් සිදු කළ හැක.